


## İSG KKD VE LEVHALAR SORULARI

1. Aşağıdakilerden hangisi kişisel koruyucu donanımlarda (KKD) bulunması gereken özellikler arasında yer almaz?  
A) Yeterli korumayı sağlamalıdır  
B) Şık görünmelidir  
C) Konforlu olmalıdır  
D) Dayanıklı olmalıdır
2. Yüksekten düşebilecek durumda bulunan malzemelerin olduğu ortamda hangi tür koruyucu ekipman kullanılmalıdır?  
A) Barett B) Maske C) Eldiven D) Kulaklık
3. Tozlu ortamlarda çalışan operatörler, hangi tür koruyucu ekipman kullanılmalıdır?  
A) Barett B) Maske  
C) Eldiven D) Çelikli Burunlu ayakkabı
4. Kişisel koruyucu donanımlar için aşağıdakilerden hangisi zorunlu bir özellik değildir?  
A) Diğer çalışanlar ile ortak kullanılır  
B) İş yerinde var olan koşullara uygun olmalıdır  
C) Kullanıma amacı ile alakalı riski önlemeye uygun olmalıdır  
D) Kullanan işçinin sağlık durumuna ve ergonomik gereksinimlerine uygun olmalıdır
5. Aşağıdakilerden hangisi kişisel koruyucu donanım değildir?  
A) Koruyucu eldivenler  
B) Atkı  
C) Düşmeyi önleyici ekipman  
D) Çelik burunlu ayakkabı
6. Güvenlik işaretlerinin kullanımı ile alakalı aşağıdaki ifadelerden hangisi yanlıştır?  
A) İşaret levhaları belirli aralıklarla yerleştirilir  
B) Karıştırılma ihtimali olan iki ışıklı işaret levhası aynı yerde kullanılmaz  
C) Birden fazla sesli sinyal, aynı anda kullanılmaz  
D) Çok fazla ortam gürültüsü olan yerlerde sesli sinyal sistemleri kullanılır

7. Güvenlik ve Sağlık İşaretleri Yönetmeliğine göre yasak işareti, tehlike alarmı ve yangınla mücadele ekipmanını ifade eden renk aşağıdakilerden hangisidir?  
A) Sarı B) Yeşil C) Kırmızı D) Mavi
8. Anlamı, acil çıkış, ilkyardım işareti olan renk aşağıdakilerden hangisidir?  
A) Sarı B) Yeşil C) Kırmızı D) Mavi
9. Aşağıdakilerden hangisi mavi renk kullanılan sağlık ve güvenlik işaretlerindedir?  
A) Zorunluluk B) Geçiş serbestliği  
C) İlkyardım D) Uyarı
10. Güvenlik ve Sağlık İşaretleri Yönetmeliğine göre, uyulması zorunlu bir davranışı belirleyen işarete ne denir?  
A) Yasak işareti B) Uyarı işareti  
C) Emredici işaret D) Bilgilendirme işareti
11. Güvenlik ve Sağlık İşaretleri Yönetmeliğine göre, anlamı ve amacı uyarı işareti olan renk aşağıdakilerden hangisidir?  
A) Sarı B) Yeşil C) Kırmızı D) Mavi
12. Kişisel koruyucu donanımlarının kullanımı ile ilgili olarak aşağıdakilerden hangisi doğrudur?  
A) Yemekhane ve dinlenme salonlarında kullanılır  
B) Sadece işyeri denetimi esnasında kullanılır  
C) Operatör istediği zaman kullanır  
D) Kişisel koruyucu ekipmanlar çalıştığınız ortamda kendimizin güvenliğini sağlamak amacıyla kullanılır
13. Güvenlik ve Sağlık İşaretleri Yönetmeliğine göre, Sigara İçmek ve Açık Alev Kullanmak Yasaktır işareti aşağıdakilerden hangisidir?




14. Güvenlik ve Sağlık İşaretleri Yönetmeliğine göre, Suyla Söndürmek Yasaktır işareti aşağıdakilerden hangisidir?



15. Güvenlik ve Sağlık İşaretleri Yönetmeliğine göre, İçilmez işareti aşağıdakilerden hangisidir?



16. Güvenlik ve Sağlık İşaretleri Yönetmeliğine göre, Yetkisiz Kimse Giremez işareti aşağıdakilerden hangisidir?




17. Güvenlik ve Sağlık İşaretleri Yönetmeliğine göre, Yaya Giremez işareti aşağıdakilerden hangisidir?



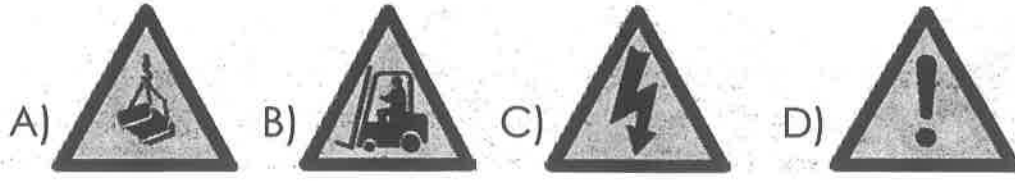
18. Güvenlik ve Sağlık İşaretleri Yönetmeliğine göre, İş Makinesi Giremez işareti aşağıdakilerden hangisidir?



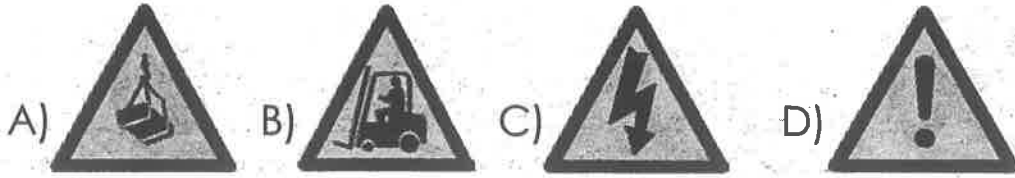
19. Güvenlik ve Sağlık İşaretleri Yönetmeliğine göre, Dokunma işareti aşağıdakilerden hangisidir?



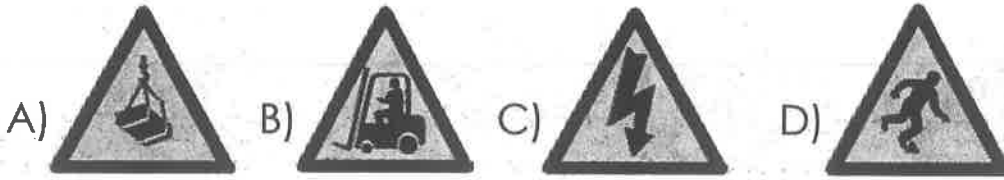
20. Güvenlik ve Sağlık İşaretleri Yönetmeliğine göre, Dikkat Asılı Yük aşağıdakilerden hangisidir?



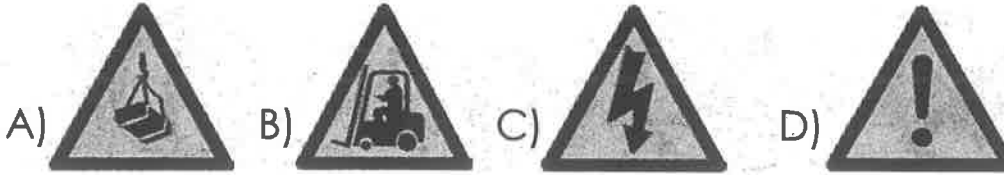
21. Güvenlik ve Sağlık İşaretleri Yönetmeliğine göre, Dikkat İş Makinesi Çıkabilir aşağıdakilerden hangisidir?




22. Güvenlik ve Sağlık İşaretleri Yönetmeliğine göre, Dikkat Elektrik Tehlikesi aşağıdakilerden hangisidir?



23. Güvenlik ve Sağlık İşaretleri Yönetmeliğine göre Dikkat Tehlike Levhası aşağıdakilerden hangisidir?



24. Güvenlik ve Sağlık İşaretleri Yönetmeliğine göre, Dikkat Engel aşağıdakilerden hangisidir?



25. Güvenlik ve Sağlık İşaretleri Yönetmeliğine göre, Dikkat Düşme Tehlikesi aşağıdakilerden hangisidir?



26. Güvenlik ve Sağlık İşaretleri Yönetmeliğine göre, Acil Çıkış işareti aşağıdakilerden hangisidir?



27. Güvenlik ve Sağlık İşaretleri Yönetmeliğine göre, Güvenlik Duşu işareti aşağıdakilerden hangisidir?



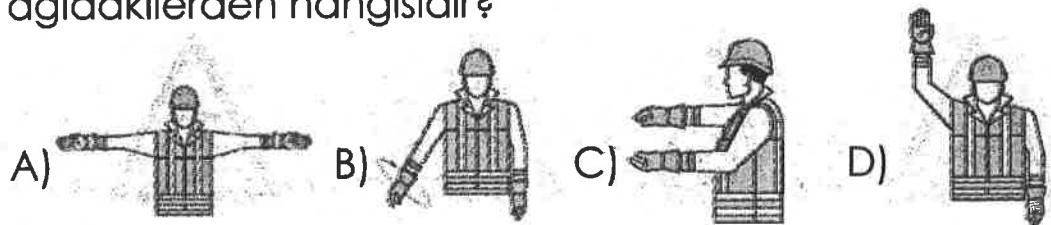
28. Güvenlik ve Sağlık İşaretleri Yönetmeliğine göre, Acil Yardım ve İlk Yardım Telefonu işareti aşağıdakilerden hangisidir?



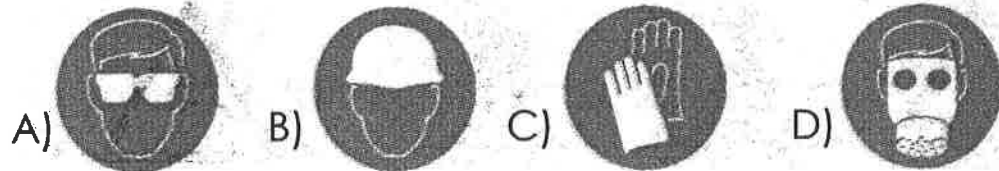
29. Güvenlik ve Sağlık İşaretleri Yönetmeliğine göre, Yangın Söndürme Cihazı işareti aşağıdakilerden hangisidir?




30. Güvenlik ve Sağlık İşaretleri Yönetmeliğine göre, Dur işareti aşağıdakilerden hangisidir?




31. Güvenlik ve Sağlık İşaretleri Yönetmeliğine göre, aşağıdakilerden hangisi Gözlük Kullan anlamına gelmektedir?



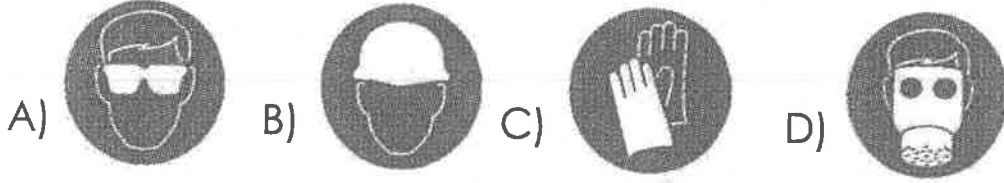
32. Güvenlik ve Sağlık İşaretleri Yönetmeliğine göre, aşağıdakilerden hangisi Baret Tak anlamına gelmektedir?




33. Güvenlik ve Sağlık İşaretleri Yönetmeliğine göre, aşağıdakilerden hangisi Eldiven Giy anlamına gelmektedir?



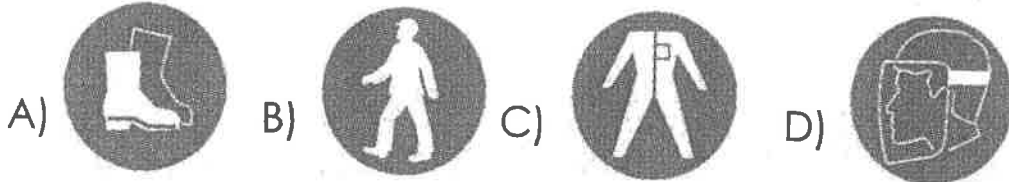
34. Güvenlik ve Sağlık İşaretleri Yönetmeliğine göre, aşağıdakilerden hangisi Maske Kullan anlamına gelmektedir?



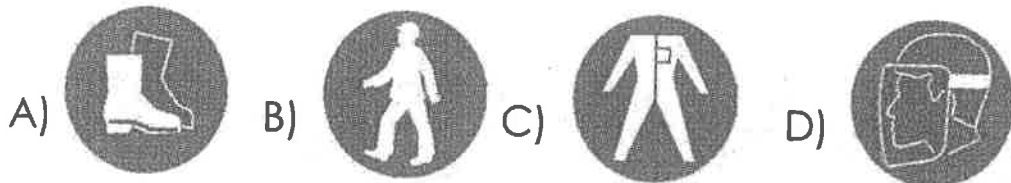
35. Güvenlik ve Sağlık İşaretleri Yönetmeliğine göre, aşağıdakilerden hangisi İş Ayakkabısı Giy anlamına gelmektedir?



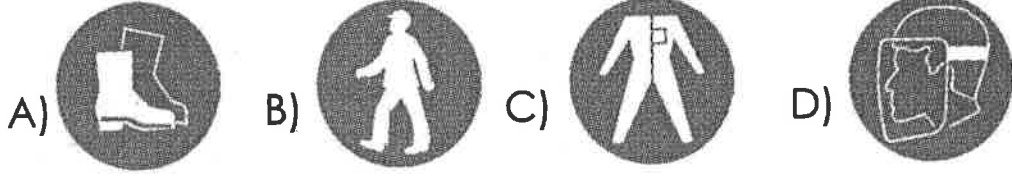
36. Güvenlik ve Sağlık İşaretleri Yönetmeliğine göre, aşağıdakilerden hangisi Yaya Yolu Kullan anlamına gelmektedir?



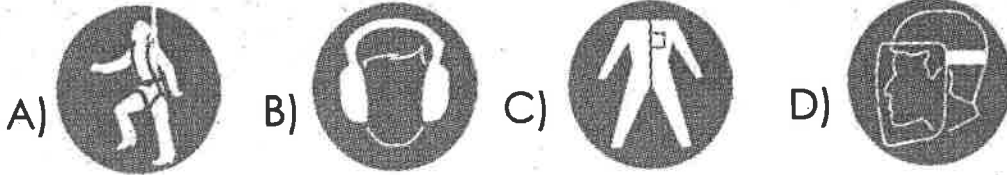
37. Güvenlik ve Sağlık İşaretleri Yönetmeliğine göre, aşağıdakilerden hangisi Koruyucu Elbise Giy anlamına gelmektedir?




38. Güvenlik ve Sağlık İşaretleri Yönetmeliğine göre, aşağıdakilerden hangisi Yüz Siperi Kullan anlamına gelmektedir?



39. Güvenlik ve Sağlık İşaretleri Yönetmeliğine göre, aşağıdakilerden hangisi Kulaklık Koruyucu Kullan anlamına gelmektedir?



40. Güvenlik ve Sağlık İşaretleri Yönetmeliğine göre, aşağıdakilerden hangisi Emniyet Kemerini Kullan anlamına gelmektedir?



41. Şekilde görülen resim ne anlama gelmektedir?

- A) Gözlük kullan
- B) Baref tak
- C) Eldiven giy
- D) Maske kullan



42. Şekilde görülen resim ne anlama gelmektedir?

- A) Gözlük kullan
- B) Baref tak
- C) Eldiven giy
- D) Maske kullan



43. Şekilde görülen resim ne anlama gelmektedir?

- A) Gözlük kullan
- B) Baref tak
- C) Eldiven giy
- D) Maske kullan



44. Şekilde görülen resim ne anlama gelmektedir.

- A) Gözlük kullan
- B) Baret tak
- C) Eldiven giy
- D) Maske kullan



45. Şekilde görülen resim ne anlama gelmektedir.

- A) İş ayakkabısı giy
- B) Yaya yolunu kullan
- C) Koruyucu elbise giy
- D) Yüz siperi kullan



46. Şekilde görülen resim ne anlama gelmektedir.

- A) İş ayakkabısı giy
- B) Yaya yolunu kullan
- C) Koruyucu elbise giy
- D) Yüz siperi kullan




47. Şekilde görülen resim ne anlama gelmektedir.

- A) İş ayakkabısı giy
- B) Yaya yolunu kullan
- C) Koruyucu elbise giy
- D) Yüz siperi kullan



48. Şekilde görülen resim ne anlama gelmektedir.

- A) İş ayakkabısı giy
- B) Yaya yolunu kullan
- C) Koruyucu elbise giy
- D) Yüz siperi kullan



49. Şekilde görülen resim ne anlama gelmektedir.

- A) Emniyet kemeri kullan
- B) Kulak koruyucu tak
- C) Koruyucu elbise giy
- D) Yüz siperi kullan





50. Şekilde görülen resim ne anlama gelmektedir.

- A) Emniyet kemeri kullan
- B) Kulak koruyucu tak
- C) Koruyucu elbise giy
- D) Yüz siperi kullan



51. Şekilde görülen resim ne anlama gelmektedir.

- A) Sigara içmek yasaktır
- B) Yaya giremez
- C) Suyla söndürmek yasaktır
- D) İçilmez



52. Şekilde görülen resim ne anlama gelmektedir.

- A) Sigara içmek
- B) Yaya giremez
- C) Suyla söndürmek yasaktır
- D) İçilmez



53. Şekilde görülen resim ne anlama gelmektedir.

- A) Sigara içmek
- B) Yaya giremez
- C) Suyla söndürmek yasaktır
- D) İçilmez



54. Şekilde görülen resim ne anlama gelmektedir.

- A) Sigara içmek
- B) Yaya giremez
- C) Suyla söndürmek yasaktır
- D) İçilmez



55. Şekilde görülen resim ne anlama gelmektedir.

- A) Yetkisiz kimse giremez
- B) Sigara içmek
- C) Yaya giremez
- D) Suyla söndürmek yasaktır



56. Şekilde görülen resim ne anlama gelmektedir.  
A) Yetkisiz kimse giremez  
B) İş makinesi giremez  
C) Yaya giremez  
D) Suyla söndürmek yasaktır



57. Şekilde görülen resim ne anlama gelmektedir.  
A) Yetkisiz kimse giremez  
B) İş makinesi giremez  
C) Dokunma  
D) Suyla söndürmek yasaktır



58. Şekilde görülen resim ne anlama gelmektedir.  
A) Parlayıcı madde veya yüksek ısı  
B) Lazer ışını  
C) Oksitleyici madde  
D) Asılı yük



59. Şekilde görülen resim ne anlama gelmektedir.  
A) Elektrik tehlikesi  
B) Lazer ışını  
C) Oksitleyici madde  
D) Asılı yük



60. Şekilde görülen resim ne anlama gelmektedir.  
A) Lazer ışını  
B) Tehlike  
C) Oksitleyici madde  
D) Asılı yük



61. Şekilde görülen resim ne anlama gelmektedir.  
A) Lazer ışını  
B) Tehlike  
C) İş makinesi giremez  
D) Asılı yük



62. Şekilde görülen resim ne anlama gelmektedir.

- A) Lazer ışını
- B) Tehlike
- C) İş makinesi
- D) Engel



63. Şekilde görülen resim ne anlama gelmektedir.

- A) Düşme tehlikesi
- B) Lazer ışını
- C) Tehlike
- D) İş makinesi



64. Şekilde görülen resim ne anlama gelmektedir.

- A) Acil Çıkış
- B) İlk yardım
- C) Acil yardım ve ilk yardım telefonu
- D) Güvenlik duşu



65. Şekilde görülen resim ne anlama gelmektedir.

- A) Acil Çıkış
- B) İlk yardım
- C) Acil yardım ve ilk yardım telefonu
- D) Güvenlik duşu



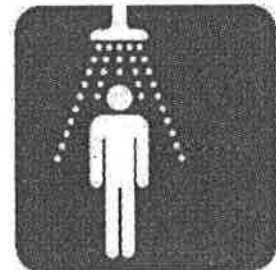
66. Şekilde görülen resim ne anlama gelmektedir.

- A) Acil Çıkış
- B) İlk yardım
- C) Acil yardım ve ilk yardım telefonu
- D) Güvenlik duşu



67. Şekilde görülen resim ne anlama gelmektedir.

- A) Acil Çıkış
- B) İlk yardım
- C) Acil yardım ve ilk yardım telefonu
- D) Güvenlik duşu



68. Şekilde görülen resim ne anlama gelmektedir.

- A) Göz duşu
- B) Acil Çıkış
- C) İlk yardım
- D) Acil yardım ve ilk yardım telefonu



69. Şekilde görülen resim ne anlama gelmektedir.

- A) Acil Yangın Telefonu
- B) Yangın merdiveni
- C) Yangın Söndürme Cihazı
- D) Yangın Hortumu



70. Şekilde görülen resim ne anlama gelmektedir.

- A) Acil Yangın Telefonu
- B) Yangın merdiveni
- C) Yangın Söndürme Cihazı
- D) Yangın Hortumu



71. Şekilde görülen resim ne anlama gelmektedir.

- A) Geri
- B) Düşey mesafe
- C) İndir
- D) Dur



- CEVAPLAR -

1. B	10. C	19. A	28. C	37. C	46. B	55. A	64. A
2. A	11. A	20. A	29. D	38. D	47. C	56. B	65. B
3. B	12. D	21. B	30. D	39. B	48. D	57. C	66. C
4. A	13. A	22. C	31. A	40. A	49. A	58. D	67. D
5. B	14. B	23. D	32. B	41. A	50. B	59. A	68. A
6. D	15. C	24. D	33. C	42. B	51. A	60. B	69. B
7. C	16. D	25. D	34. D	43. C	52. B	61. C	70. C
8. B	17. D	26. A	35. A	44. D	53. C	62. D	71. D
9. A	18. B	27. B	36. B	45. A	54. D	63. A	